

Przeczytaj kilka stron lektury „O psie, który jeździł koleją”

Klasa III - 8 kwietnia 2020

1. EDUKACJA POLONISTYCZNA

Wykonaj w „piszę – zeszyt zadań polonistycznych” zad.2,3,4, str.70-71

(poproś rodzica o wykonanie zdjęcia rozwiązanych zadań i odesłanie na mojego Messengera)

2. EDUKACJA MATEMATYCZNA

Wykonaj w ćwiczeniach matematyczno-przyrodniczych ćw.1, 2 , str.54

Wykonaj w „liczę-zeszyt zadań matematycznych” ćw.1,2, str. 62






(poproś rodzica o wykonanie zdjęć rozwiązanych zadań i odesłanie na mojego Messengera)

3. WYCHOWANIE FIZYCZNE

Wykonuj ćwiczenia razem z dziećmi na filmiku.

https://www.youtube.com/watch?v=JDSQlxZ_scY

2. Na wyprzedaży każdy towar był tańszy o 13 zł od podanej ceny. Oblicz pisemnie nowe ceny towarów według wzoru.

							
37 zł	76 zł	99 zł	45 zł	63 zł			
24 zł	<table border="1" style="display: inline-table; width: 30px; height: 30px; vertical-align: middle;"></table> zł	<table border="1" style="display: inline-table; width: 30px; height: 30px; vertical-align: middle;"></table> zł	<table border="1" style="display: inline-table; width: 30px; height: 30px; vertical-align: middle;"></table> zł	<table border="1" style="display: inline-table; width: 30px; height: 30px; vertical-align: middle;"></table> zł			
<table border="1" style="display: inline-table; width: 60px; height: 60px; vertical-align: middle;"><tr><td>37</td></tr><tr><td>-13</td></tr><tr><td>24</td></tr></table>	37	-13	24	<table border="1" style="display: inline-table; width: 60px; height: 60px; vertical-align: middle;"></table>	<table border="1" style="display: inline-table; width: 60px; height: 60px; vertical-align: middle;"></table>	<table border="1" style="display: inline-table; width: 60px; height: 60px; vertical-align: middle;"></table>	<table border="1" style="display: inline-table; width: 60px; height: 60px; vertical-align: middle;"></table>
37							
-13							
24							

- Ile przed obniżką kosztowały torebka i sukienka razem?

- Ile po obniżce kosztowały spodnie, trampki i koszulka razem?

- Masz do wydania 120 zł. Zrób dwa razy zakupy. Obowiązują ceny po obniżce.

- Ile par trampek mógłbyś kupić przed i po obniżce, mając 100 zł? Ile reszty by ci zostało?

Zakupy przed obniżką:

Odpowiedź: _____

Zakupy po obniżce:

Odpowiedź: _____

- Zapisz ceny przed i po obniżce w kolejności od najniższej, do najwyższej.

Przed obniżką:

Po obniżce:

4. EDUKACJA TECHNICZNA

Wykonaj tulipana z papieru (origami). lub narysuj na kartce wazon z tulipanami.

Instrukcja do wykonania tulipana z papieru:

<https://www.youtube.com/watch?v=MtonW5o7xh8>