

Klasa III - 22 kwietnia 2020

1. EDUKACJA POLONISTYCZNA

Wykonaj w ćwiczeniach polonistyczno- społecznych cz.4: ćw.1,2,3, str.18

(poproś rodzica o wykonanie zdjęć rozwiązanych zadań i odesłanie na mojego Messengera)

2. EDUKACJA MATEMATYCZNA

Wykonaj w ćwiczeniach matematyczno-przyrodniczych ćw.1, str.58

Wykonaj w ćwiczeniach „liczę”: ćw.1,2,3,4, str.64






(poproś rodzica o wykonanie zdjęć rozwiązanych zadań i odesłanie na mojego Messengera)

3. WYCHOWANIE FIZYCZNE

[https://www.youtube.com/playlist?list=PLQBt82zcfRIKC1YS_lfK4LC7PUu-](https://www.youtube.com/playlist?list=PLQBt82zcfRIKC1YS_lfK4LC7PUu-mcRKL&fbclid=IwAR0WwEDkjKkevd1I7bToF31NqpwQH6e0hg-ERHoUHkafMp3V4REvKODyJI)

[mcRKL&fbclid=IwAR0WwEDkjKkevd1I7bToF31NqpwQH6e0hg-ERHoUHkafMp3V4REvKODyJI](https://www.youtube.com/playlist?list=PLQBt82zcfRIKC1YS_lfK4LC7PUu-mcRKL&fbclid=IwAR0WwEDkjKkevd1I7bToF31NqpwQH6e0hg-ERHoUHkafMp3V4REvKODyJI)

2. Na wyprzedaży każdy towar był tańszy o 13 zł od podanej ceny. Oblicz pisemnie nowe ceny towarów według wzoru.

				
37 zł	76 zł	99 zł	45 zł	63 zł
$\begin{array}{ c } \hline 24 \\ \hline \end{array}$ zł	$\begin{array}{ c } \hline \\ \hline \end{array}$ zł	$\begin{array}{ c } \hline \\ \hline \end{array}$ zł	$\begin{array}{ c } \hline \\ \hline \end{array}$ zł	$\begin{array}{ c } \hline \\ \hline \end{array}$ zł
$\begin{array}{ c } \hline 37 \\ -13 \\ \hline 24 \\ \hline \end{array}$	$\begin{array}{ c } \hline \\ \hline \end{array}$	$\begin{array}{ c } \hline \\ \hline \end{array}$	$\begin{array}{ c } \hline \\ \hline \end{array}$	$\begin{array}{ c } \hline \\ \hline \end{array}$

- Ile przed obniżką kosztowały torebka i sukienka razem?

--

- Ile po obniżce kosztowały spodnie, trampki i koszulka razem?

--

- Masz do wydania 120 zł. Zrób dwa razy zakupy. Obowiązują ceny po obniżce.

--

--

- Ile par trampek mógłbyś kupić przed i po obniżce, mając 100 zł? Ile reszty by ci zostało?

Zakupy przed obniżką:

Odpowiedź: _____

Zakupy po obniżce:

Odpowiedź: _____

- Zapisz ceny przed i po obniżce w kolejności od najniższej, do najwyższej.

Przed obniżką:

Po obniżce:

4. EDUKACJA TECHNICZNA

Wykonaj tulipana z papieru (origami). lub narysuj na kartce wazon z tulipanami.

Instrukcja do wykonania tulipana z papieru:

<https://www.youtube.com/watch?v=MtonW5o7xh8>