

Klasa III - 21 kwietnia 2020

1. EDUKACJA POLONISTYCZNA

Zapoznaj się z informacjami w podręczniku polonistyczno-społecznym na str.:50-51

Wykonaj w ćwiczeniach polonistyczno-społecznych cz.4: ćw.1,2,str.15

(poproś rodzica o wykonanie zdjęć rozwiązanych zadań i odesłanie na mojego Messengera)

2. EDUKACJA POLONISTYCZNA

Wykonaj w ćwiczeniach piszę: ćw.1,2,3,str.72

(poproś rodzica o wykonanie zdjęć rozwiązanych zadań i odesłanie na mojego Messengera)

3. EDUKACJA MATEMATYCZNA

Zapisz w zeszycie „W klasie” i rozwiąż zad.1, 2, 3,str.53 z podręcznika matematyczno-przyrodniczego cz.2.

(poproś rodzica o wykonanie zdjęć rozwiązanych zadań i odesłanie na mojego Messengera)






4. WYCHOWANIE FIZYCZNE

[https://www.youtube.com/watch?v=l78D-](https://www.youtube.com/watch?v=l78D-0TKWBM&feature=youtu.be&fbclid=IwAR37fmGWO8VOtHjhi7irl-HvQX4buc_asUdZ2_24twV9BBE8_e0iD4HYPQ)

[0TKWBM&feature=youtu.be&fbclid=IwAR37fmGWO8VOtHjhi7irl-](https://www.youtube.com/watch?v=l78D-0TKWBM&feature=youtu.be&fbclid=IwAR37fmGWO8VOtHjhi7irl-HvQX4buc_asUdZ2_24twV9BBE8_e0iD4HYPQ)

[HvQX4buc_asUdZ2_24twV9BBE8_e0iD4HYPQ](https://www.youtube.com/watch?v=l78D-0TKWBM&feature=youtu.be&fbclid=IwAR37fmGWO8VOtHjhi7irl-HvQX4buc_asUdZ2_24twV9BBE8_e0iD4HYPQ)

2. Na wyprzedaży każdy towar był tańszy o 13 zł od podanej ceny. Oblicz pisemnie nowe ceny towarów według wzoru.

				
37 zł	76 zł	99 zł	45 zł	63 zł
$\begin{array}{ c } \hline 24 \\ \hline \end{array}$ zł	$\begin{array}{ c } \hline \\ \hline \end{array}$ zł	$\begin{array}{ c } \hline \\ \hline \end{array}$ zł	$\begin{array}{ c } \hline \\ \hline \end{array}$ zł	$\begin{array}{ c } \hline \\ \hline \end{array}$ zł
$\begin{array}{ c } \hline 37 \\ - 13 \\ \hline 24 \\ \hline \end{array}$	$\begin{array}{ c } \hline \\ \hline \end{array}$	$\begin{array}{ c } \hline \\ \hline \end{array}$	$\begin{array}{ c } \hline \\ \hline \end{array}$	$\begin{array}{ c } \hline \\ \hline \end{array}$

- Ile przed obniżką kosztowały torebka i sukienka razem?

--

- Ile po obniżce kosztowały spodnie, trampki i koszulka razem?

--

- Masz do wydania 120 zł. Zrób dwa razy zakupy. Obowiązują ceny po obniżce.

- Ile par trampek mógłbyś kupić przed i po obniżce, mając 100 zł? Ile reszty by ci zostało?

Zakupy przed obniżką:

--

Odpowiedź: _____

Zakupy po obniżce:

--

Odpowiedź: _____

- Zapisz ceny przed i po obniżce w kolejności od najniższej, do najwyższej.

Przed obniżką:

--

Po obniżce:

--

5. EDUKACJA TECHNICZNA

Wykonaj tulipana z papieru (origami). lub narysuj na kartce wazon z tulipanami.

Instrukcja do wykonania tulipana z papieru:

<https://www.youtube.com/watch?v=MtonW5o7xh8>